

3a) LOGARITHMICKÁ A EXPONENCIÁLNÍ FUNKCE

Definice 1: Exponenciální funkce se označuje a^x funkce na množině \mathbb{R} nulydrušná ne trnem

$$y = a^x, \text{ kde } a \text{ je kladné číslo různé od 1 (} a \in \mathbb{R}^+ \wedge a \neq 1, a \in \mathbb{R}^+ - \{1\} \text{)}$$

např. $y = 2^x, y = 3^x, y = (\frac{1}{2})^x$ jsou exponenciální funkce.

Příklad 1: Peshofte grafy funkcí $y = 2^x, y = 2^{-x}, y = (\frac{1}{2})^x,$

$$y = (\frac{1}{2})^{-x}$$

Řešení:

x	-2	-1	0	1	2	3	4...
$y = 2^x$	$\frac{1}{4}$	$\frac{1}{2}$	1	2	4	8	16...

$$y = 2^{-2} = \frac{1}{2^2} = \frac{1}{4} \text{ abo}$$

x	-3	-2	-1	0	1	2	3...
$y = 2^{-x}$	8	4	2	1	$\frac{1}{2}$	$\frac{1}{4}$	$\frac{1}{8}$

← Stejný graf

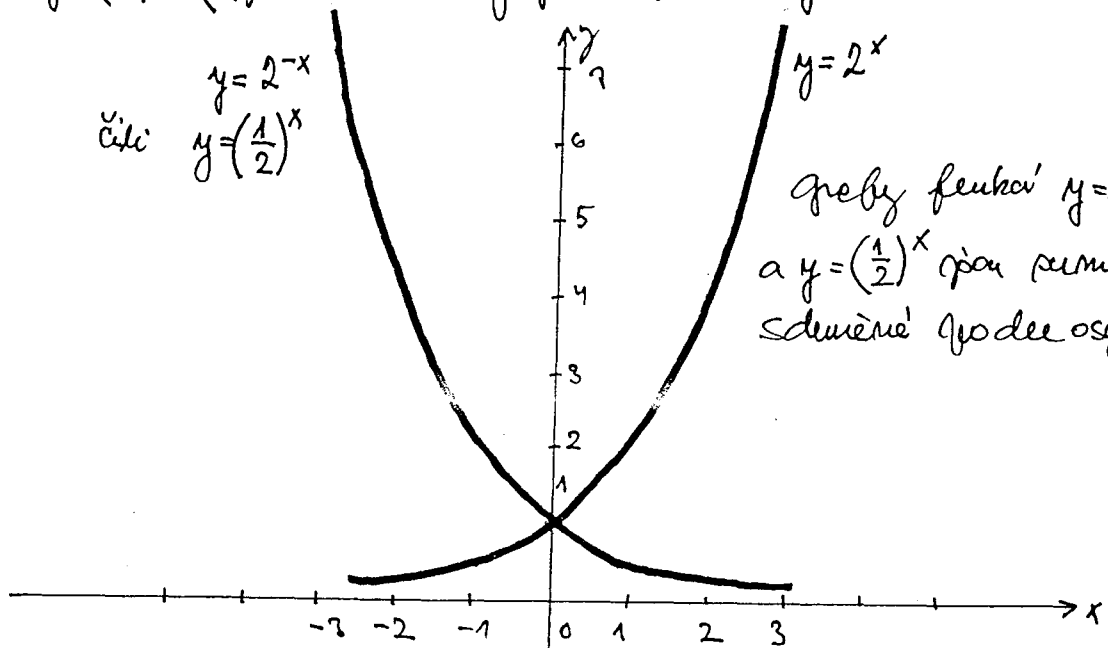
$$y = 2^{-(-3)} = 2^3 = 8$$

x							
$y = (\frac{1}{2})^x$							

$$y = (\frac{1}{2})^x = \frac{1^x}{2^x} = \frac{1}{2^x} = 2^{-x}$$

$y = (\frac{1}{2})^{-x} = (\frac{2}{1})^x = 2^x$ stejný graf jako $y = 2^x$

čti $y = 2^{-x}$
 $y = (\frac{1}{2})^x$



grafy funkcí $y = 2^x$ a $y = (\frac{1}{2})^x$ jsou symetrické podle osy y .

Vlastnosti exponenciální funkce:

Pro funkci $y = a^x$, $a \in \mathbb{R}^+ - \{1\}$ platí

Pro $a > 1$ je to funkce rostoucí a tedy prostá.

Pro $0 < a < 1$ je to funkce klesající, a tedy také prostá.

Definiční obor je \mathbb{R} , obor hodnot $(0, +\infty)$

Proveďme si: Funkce f je narysovaná prostá, pokud když

pro $\forall x_1 \neq x_2 \in D_f$ platí: je-li $x_1 \neq x_2 \Rightarrow f(x_1) \neq f(x_2)$.

Příklad 2: Mačtnete od ruky grafy funkcí, určete D_f , H_f a průsečky s osou x a y .

- a) $y = e^x$ b) $y = 10^x$ c) $y = 2^{-x} + 2$ d) $y = 2^x - 4$ e) $y = 3 \cdot 2^x$

Řešení a)

$e \approx 2,7$ je základ přirozeného logaritmu

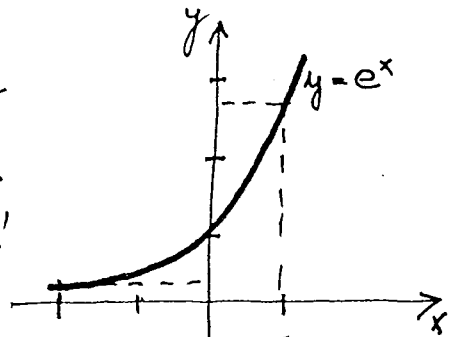
$y = 2,7^x$ pro $x = 0$ je $y = 2,7^0 = 1$

$D_f = \mathbb{R}$

pro $x = -2$ je $y = 2,7^{-2} \approx 0,36$

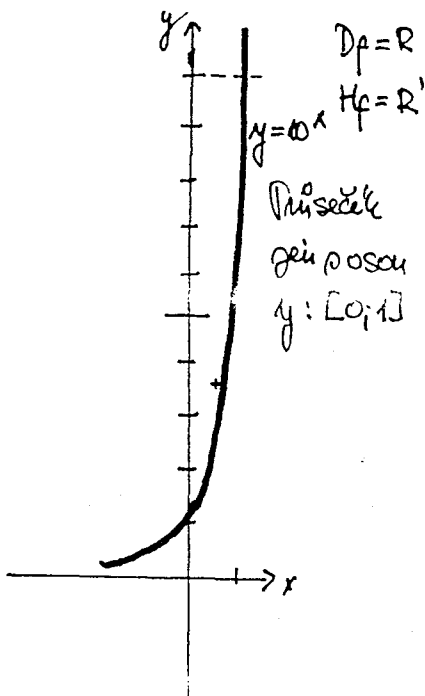
$H_f = \mathbb{R}^+$

pro $x = 1$ je $y = 2,7$



Průsečky s osou y $[0; 1]$

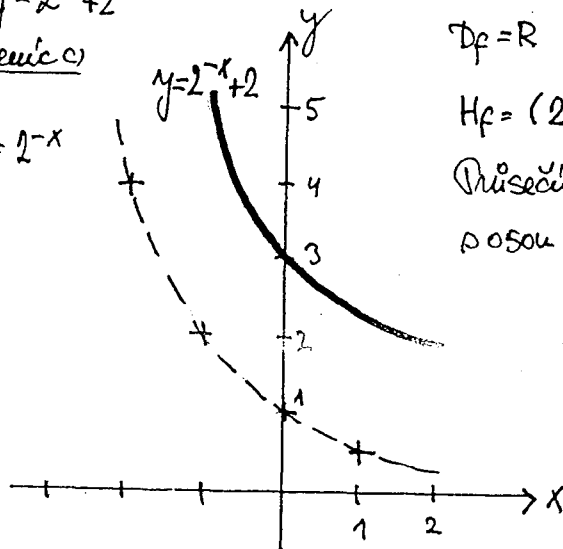
Řešení b): $y = 10^x$



c) $y = 2^{-x} + 2$

Řešení c)

$y = 2^{-x}$

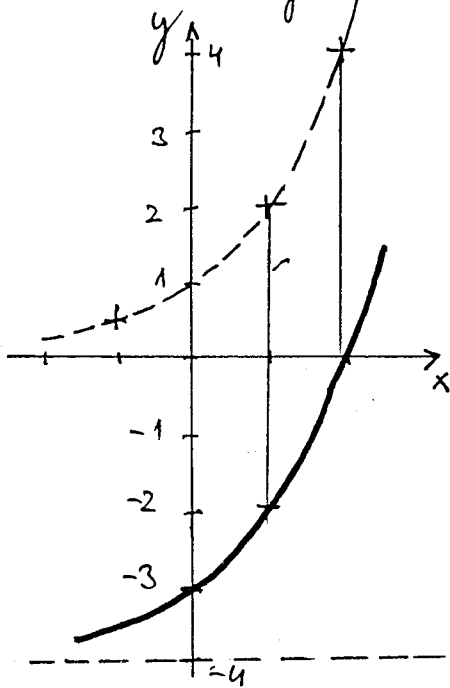


$D_f = \mathbb{R}$

$H_f = (2, +\infty)$

Průsečky s osou y : $[0; 3]$

Řešení d): $y = 2^x - 4$



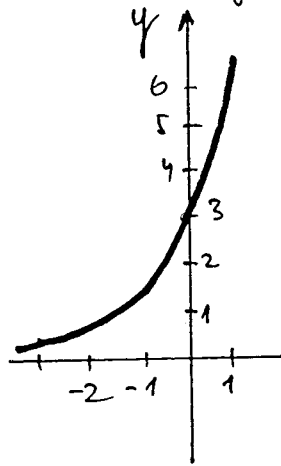
$D_f = \mathbb{R}$

$H_f = (-4; +\infty)$

Průsečík osou x: $[2; 0]$

" osou y: $[0; -3]$

Řešení e) $y = 3 \cdot 2^x$



$\text{Pro } x = -3, y = 0,375$

$\text{Pro } x = -1, y = 1,5$

$\text{Pro } x = 0, y = 3$

$\text{Pro } x = 1, y = 6$

Průsečík je osou y:

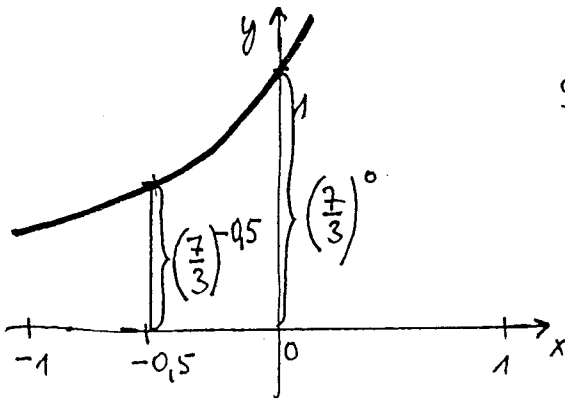
$[0; 3]$

$D_f = \mathbb{R}$

$H_f = \mathbb{R}^+$

Příklad 3: Dokážete, že číslo $(\frac{7}{3})^{-0,5} < 1$

Řešení - důkaz (odůvodnění): $y = (\frac{7}{3})^{-0,5}$; $\frac{7}{3} > 1 \Rightarrow$ funkce je rostoucí



2 grafu je stejný, než

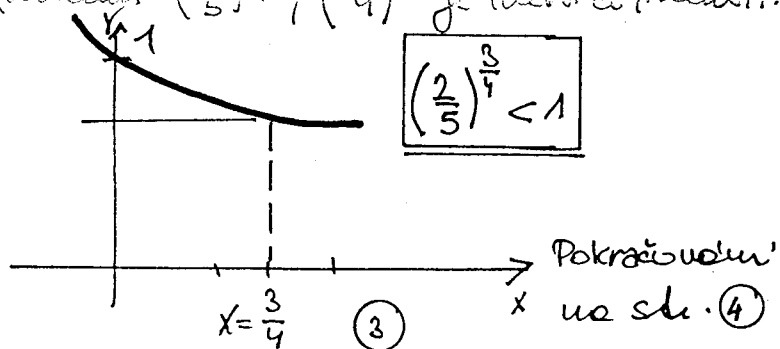
$(\frac{7}{3})^{-0,5} < (\frac{7}{3})^0$

$(\frac{7}{3})^{-0,5} < 1$, kde je důkaz proveden.

Příklad 4: Které z mocnin $(\frac{2}{5})^{\frac{3}{4}}$, $(\frac{5}{4})^{\frac{3}{7}}$ je větší či menší než 1

Řešení: $(\frac{2}{5})^{\frac{3}{4}}$; $\frac{2}{5} < 1$,

funkce je proto klesající

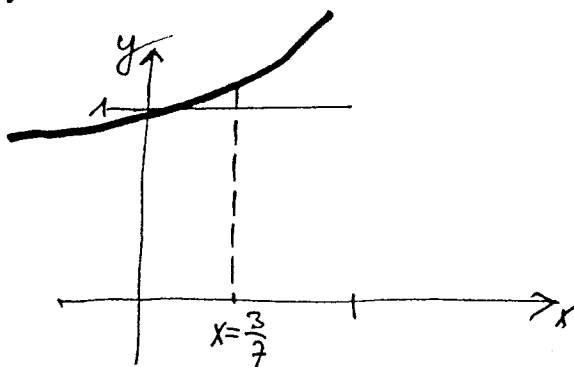


$(\frac{2}{5})^{\frac{3}{4}} < 1$

Pokračujeme x ve sh. ④

$x = \frac{3}{4}$ ③

$(\frac{5}{4})^{\frac{3}{7}}$; $(\frac{5}{4})^{\frac{3}{7}} > \dots$ funkce je rostoucí, proto $(\frac{5}{4})^{\frac{3}{7}} > 1$

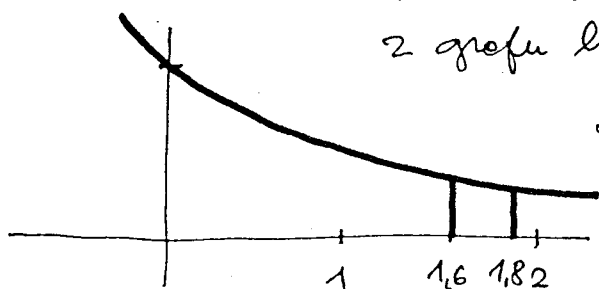


Příklad 5: Posoudíte o nevdinosti výjedu $(0,4)^{1,6} < (0,4)^{1,8}$

Rěšení: $0,4 < 1$... funkce je klesající

z grafu lze určit, že $(0,4)^{1,6} > (0,4)^{1,8}$.

Daný výrok je proto nepravdivý.

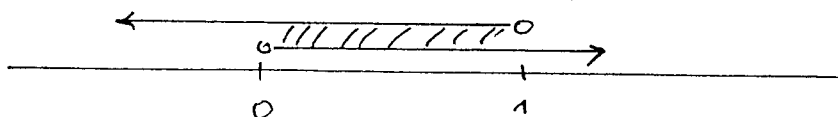


Příklad 6: Určete všechny hodnoty reálného parametru q tak, aby exp. funkce $f_y = (\frac{1}{q})^x$ byla rostoucí.

Rěšení: Musí-li být $y = (\frac{1}{q})^x$ rostoucí, musí platit

$$\frac{1}{q} > 1 \quad \wedge \quad \frac{1}{q} > 0$$

$$q < 1 \quad \wedge \quad q \text{ je kladné (viz def.)}$$



$$q \in (0; 1)$$

ověření: napišme $q = 0,5$: $(\frac{1}{q})^x = (\frac{1}{0,5})^x = 2^x$

Definice 2: Logaritmus funkce je vztahem a je funkce inverzní ("opačná") k exponenciální funkci $y = a^x$, kde $a \in \mathbb{R}^+ - \{1\}$.

K expon. funkci $f: y = a^x$ je inverzní $f^{-1}: y = \log_a x$; $a \in \mathbb{R}^+ - \{1\}$

Oppliková definice:

Logaritmus čísla $x > 0$ je takové reálné číslo y , kterým musíme umocnit základ a ($a > 0, a \neq 1$), abychom získali číslo x

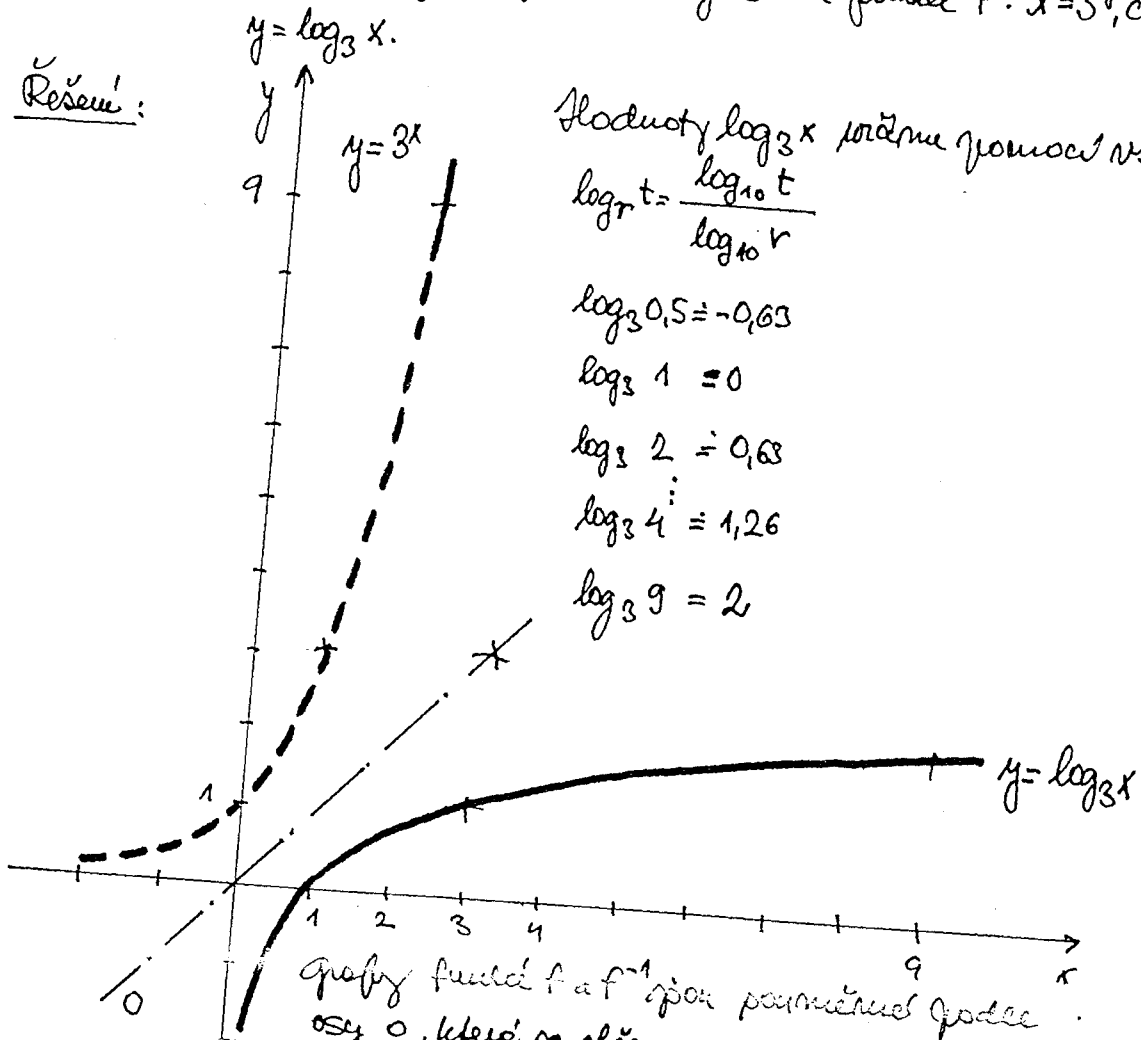
$$\left. \begin{aligned} \log_a x = y & \quad \log_{10} 100 = 2, \text{ neboť } 10^2 = 100 \\ \log_2 8 = 3, & \text{ neboť } 2^3 = 8 \end{aligned} \right\} \text{logaritmus} = \text{exponent}$$

Průběh: Inverzní funkci k dané funkci získáme sdělením proměnných: $f: y = 3^x \dots f^{-1}: x = 3^y$, což převede

$$y = \log_3 x$$

Příklad 7: Sestrojte graf funkce $f: y = 3^x$ a funkce $f^{-1}: x = 3^y$, čili:

Řešení:



Hodnoty $\log_3 x$ můžeme pomocí vzorce:

$$\log_r t = \frac{\log_{10} t}{\log_{10} r}$$

$$\log_3 0,5 \approx -0,63$$

$$\log_3 1 = 0$$

$$\log_3 2 \approx 0,63$$

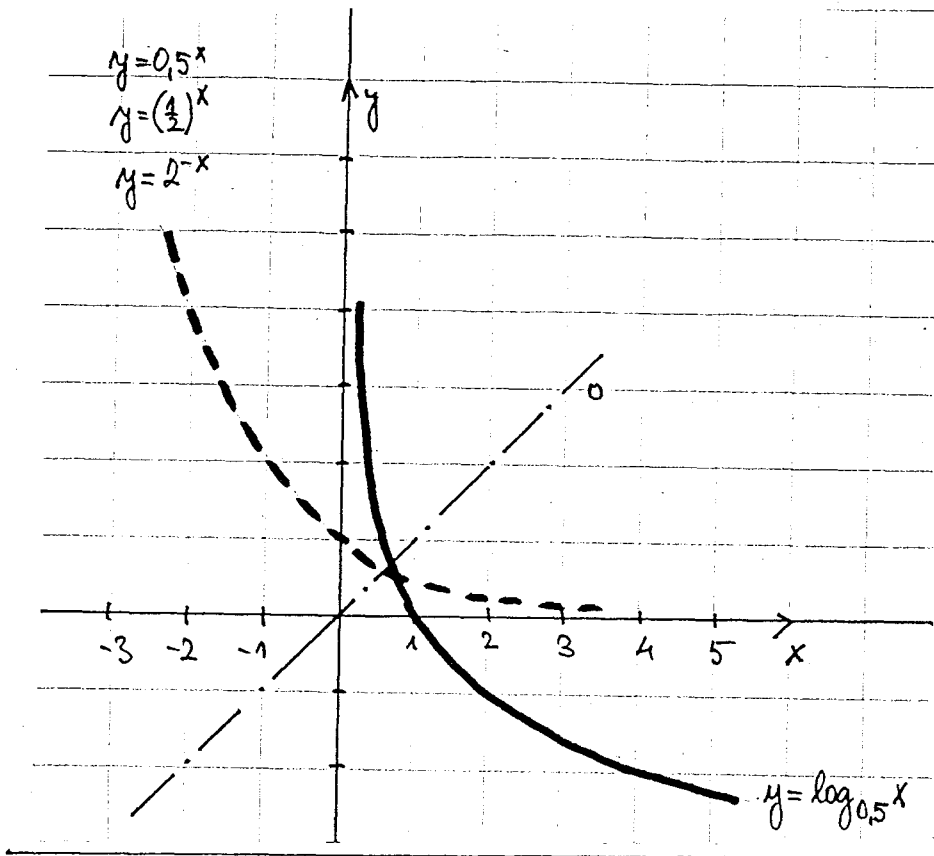
$$\log_3 4 \approx 1,26$$

$$\log_3 9 = 2$$

Příklad 8: Sestrojte graf funkce $f: y = \left(\frac{1}{2}\right)^x$ a funkce $f^{-1}: y = \log_{0,5} x$

Řešení:

na další stránce.



Příklad 3: Perlovka
 graf funkce

$$y = \log_2(x-1) + 2$$

Rěšení: nejprve
 narysujeme graf
 funkce $y = \log_2 x$.
 Je možné ho ma-
 črtnout již tak
 od příz nebo
 učít funkční hod-
 noty pomocí
 vzore na str. 5.

$$y = \log_2 0,5 = \frac{\log_{10} 0,5}{\log_{10} 2} = -1, \quad \log_2 1 = 0, \quad \log_2 1,5 = 0,58 \text{ (viz řeckonauč graf)}$$

$y = \log_2(x-1)$... řeckonauč graf se posune $\sigma + 1$ doprava (=čárkovauč)
 $y = \log_2(x-1) + 2$ je výsledný graf (plnou čarou), přidání graf se
 posune $\sigma + 2$ ve směru osy y (nahoru).

Contřeu:
 napiš pro
 $x = 8$

$$y = \log_2(8-1) = \log_2 7 \approx 2,8$$

$$y = \log_2(x-1) + 2$$

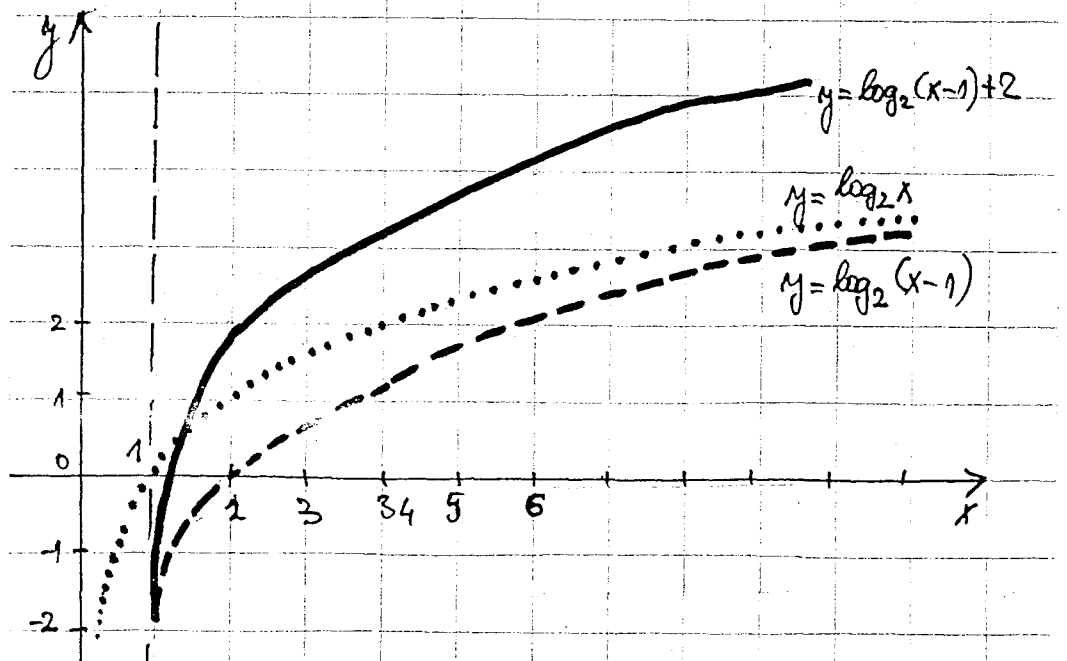
$$\text{pro } x = 4$$

$$y = \log_2(4-1) + 2$$

$$= (\log_2 3) + 2 =$$

$$1,58 + 2 =$$

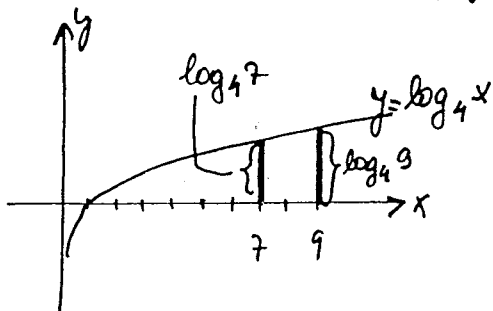
$$3,58$$



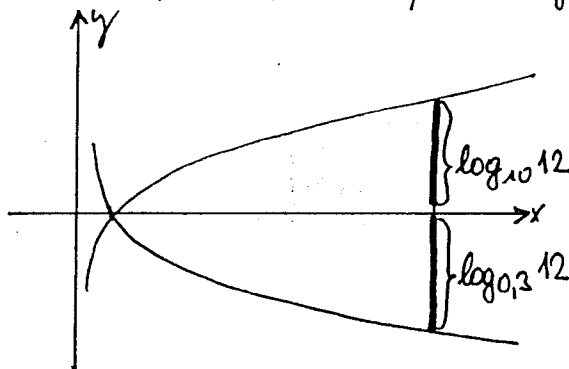
Příklad 10: Použijte následující úpravy převodů?

a) $\log_4 7 < \log_4 9$ b) $\log_{10} 12 \leq \log_{0,3} 12$

Řešení: a) úprava je převodů



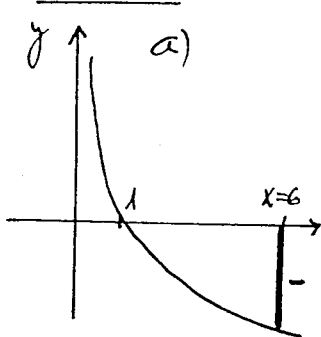
b) úprava není převodů,



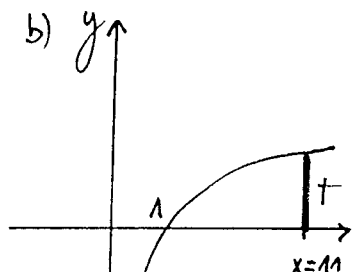
Příklad 11: Které z následujících čísel jsou kladná?

a) $\log_{0,5} 6$ b) $-\log_{14} 11$ c) $\log_7 8$

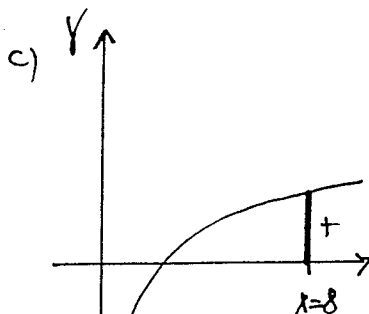
Řešení:



$\log_{0,5} 6$ je záporné



$\log_{14} 11$ je kladné číslo
 $-\log_{14} 11$ je záporné číslo



$\log_7 8$ je kladné číslo

Příklad 12: Zjistěte definiční obory funkcí:

a) $y = \log_{10} (x+3)$ b) $y = \log_{0,5} (-x)$ c) $y = \log_5 \sqrt{x-4}$ d) $y = \sqrt{\log_3 x}$

Řešení a) Pro logaritmy záporných čísel a nul nejsou definovány, musíme zjistit:

$$\left. \begin{array}{l} x+3 > 0 \\ x > -3 \end{array} \right\} \Rightarrow \boxed{x \in (-3, +\infty)}$$

Řešení b): $\log_{0,5} (-x)$... opět $-x > 0$ | (-1)

$$x < 0 \Rightarrow \boxed{x \in (-\infty, 0)}$$